



DÉTERMINER UNE LONGUEUR

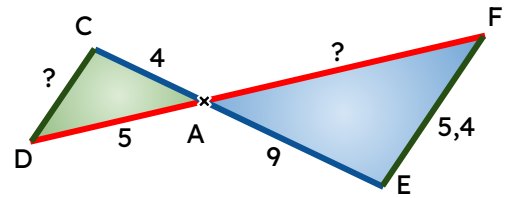
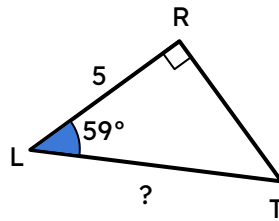
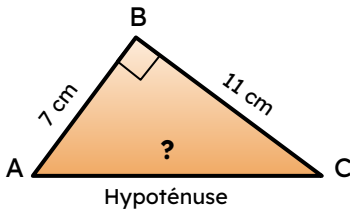
Calculer une longueur



J'ai un triangle rectangle et deux côtés

J'ai un triangle rectangle un côté et un angle

J'ai des parallèles



Avec $CD \parallel EF$

J'utilise Pythagore

J'utilise la trigonométrie

J'utilise Thalès



Traces écrites