




ÉPREUVE EXTERNE COMMUNE

# CE1D 2019

## MATHÉMATIQUES

LIVRET 1 | LUNDI 17 JUIN



NOM : \_\_\_\_\_

PRÉNOM : \_\_\_\_\_

CLASSE : \_\_\_\_\_

N° D'ORDRE : \_\_\_\_\_

... /130

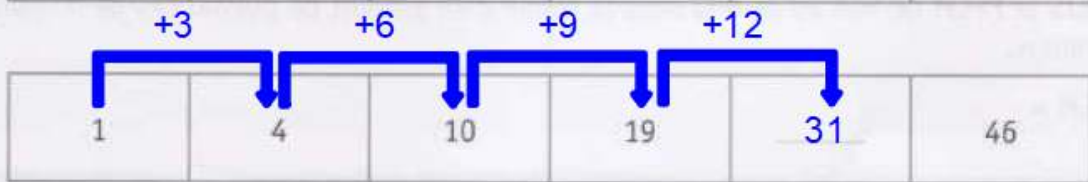

L1 : ... /67

QUESTION 1

/3

COMPLÈTE les suites de nombres.

1



QUESTION 2

/2

DÉCOMPOSE 720 en facteurs premiers.

2

ÉCRIS ta réponse sous forme d'un produit de puissances de nombres premiers différents.

$720 = 2^4 \cdot 3^2 \cdot 5$

720	2
360	2
180	2
90	2
45	3
15	3
5	5
1	

## QUESTION

3

/2

$$504 = 2^3 \times 3^2 \times 7$$

$$600 = 2^3 \times 3 \times 5^2$$

**ÉCRIS** le PGCD de 504 et de 600 sous la forme d'un produit de puissances de nombres premiers.

$$\text{PGCD} = 2^3 \cdot 3 \text{ (uniquement les facteurs communs)}$$

**ÉCRIS** le PPCM de 504 et de 600 sous la forme d'un produit de puissances de nombres premiers.  3

$$\text{PPCM} = 2^3 \cdot 3^2 \cdot 5^2 \cdot 7 \text{ (tous les facteurs à la plus haute puissance)}$$

## QUESTION

4

/4

À l'entraînement, trois cyclistes font des tours d'un étang.

Jean effectue un tour en 9 minutes, Eva en 10 minutes et Philippe en 15 minutes.

Ils ont commencé leur entraînement au même endroit et en même temps à 14h15.

**DÉTERMINE** l'heure à laquelle ils vont se retrouver à nouveau ensemble à leur point de départ.  4

**ÉCRIS** ton raisonnement et tous tes calculs.  4

$$9 = 3^2$$

$$10 = 2 \cdot 5$$

$$15 = 3 \cdot 5$$

$$\text{PPCM}(9; 10; 15) = 2 \cdot 3^2 \cdot 5 = 90$$

$$14\text{h}15 + 90 \text{ minutes} = 15\text{h}45$$

Ils se retrouveront ensemble à 15h45

QUESTION

5

/2

COCHE, dans chaque cas, la proposition correcte.

5

La notation scientifique de 0,0075 est

- $7,5 \times 10^3$
- $0,75 \times 10^{-2}$
- $7,5 \times 10^{-3}$
- $75 \times 10^{-4}$

La notation scientifique de 1 243 000 est

- $1,243 \times 10^3$
- $1,243 \times 10^6$
- $1\ 243 \times 10^3$
- $1,243 \times 10^{-6}$

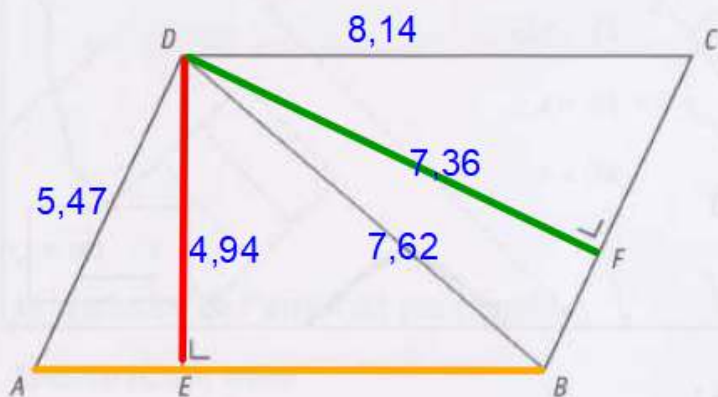
QUESTION

6

/3

La figure suivante n'est pas à l'échelle.

*ABCD* est un parallélogramme.



- $|DA| = 5,47$
- $|DE| = 4,94$
- $|DB| = 7,62$
- $|DF| = 7,36$
- $|DC| = 8,14$

COMPLÈTE les phrases par un nombre en utilisant les mesures données.

6

La mesure de la distance du point *D* à la droite *AB* vaut 4,94

La mesure de la distance de la droite *AD* à la droite *BC* vaut 7,36

La mesure de la distance du point *A* au point *B* vaut 8,14





Un bateau se trouve sur la Meuse :

- à égale distance du Centre ADEPS (F) et du Centre Hospitalier Régional de Namur (E). (trace la médiatrice de [FE]).
- à 550 m de la pointe du Grognon (G).  
(trace le cercle de centre G et d'un rayon de 5,5 cm).

**MARQUE** la position du bateau à l'aide d'un point vert.

**LAISSE** tes constructions visibles.

## QUESTION

8

/2

Le triangle  $RST$  est tel que  $|RS| = 8$  et  $|ST| = 5$ .

**ENTOURE**, parmi les longueurs proposées, celles qui peuvent être la mesure du troisième côté.

 8

$$8 - 5 < |RT| < 8 + 5$$

2	3	4	8	9	13	15
---	---	---	---	---	----	----

## QUESTION

9

/2

Pierre a résolu l'équation  $7x + 7 = 28 + 10x$ .

$$7x + 7 = 28 + 10x$$

$$7x - 10x = 28 - 7$$

$$-3x = 21$$

$$x = 21 + 3$$

$$x = 24$$

La résolution de Pierre n'est pas correcte.

**IDENTIFIE** son erreur.

 9

**JUSTIFIE** ton choix.

$$-3x = 21$$

$$x = 21 : (-3)$$

$$x = -7$$

Les classes de 2A, 2B et 2C comptent au total 67 élèves.

La classe de 2B compte 3 élèves de moins que la classe de 2A.

La classe de 2C compte 1 élève de plus que la classe de 2A.

**DÉTERMINE** le nombre d'élèves de chaque classe.

 10a

**ÉCRIS** ton raisonnement et tous tes calculs.

 10b

Soit  $x$  le nombre d'élève de la classe de 2A.

$$x + (x - 3) + (x + 1) = 67$$

$$3x - 2 = 67$$

$$3x = 69$$

$$x = 23$$

Il y a 23 élèves en 2A, 20 élèves en 2B et 24 élèves en 2C.

## QUESTION

11

/6

RÉSOLV les équations suivantes.

Toute solution fractionnaire doit être écrite sous forme irréductible.

 11a 11b

$$-5 \cdot (x + 2) + 1 = 4x$$

$$-5x - 10 + 1 = 4x$$

$$-9 = 9x$$

$$-1 = x$$

$$\frac{2}{3}x = \frac{3}{5}$$

$$\frac{2}{3} \quad x = \frac{3}{5}$$

$$\times \frac{3}{2} \quad \times \frac{3}{2}$$

$$x = \frac{9}{10}$$

## QUESTION

12

/6

EFFECTUE.

 12

$$3a \cdot 4b \cdot 2 = 24 ab$$

$$h^3 - 7h^3 + 3h^3 = -3h^3$$

$$b - 7a + 6b - 2a = 7b - 9a$$

$$3r - (2s - 1) = 3r - 2s + 1$$

$$(5 - 7h) \cdot (-3) = -15 + 21h$$

$$(2 - a) \cdot (3b + 5) = 6b + 10 - 3a - 5a$$



## QUESTION

## 13

/3

 EFFECTUE et SIMPLIFIE si possible.

$$3a^3 \cdot 2a^2 = 6a^5$$

$$(-3y^4)^2 = 9y^8$$

$$\frac{2x^5}{4x^2} = \frac{x^3}{2}$$

## QUESTION

## 14

/2

 EFFECTUE les produits remarquables.

$$(3a - 4b)^2 = 9a^2 - 24ab + 16b^2$$

$$(7x - 3) \cdot (7x + 3) = 49x^2 - 9$$

Voici la représentation d'une façade d'un entrepôt.

Les mesures ne sont pas respectées.

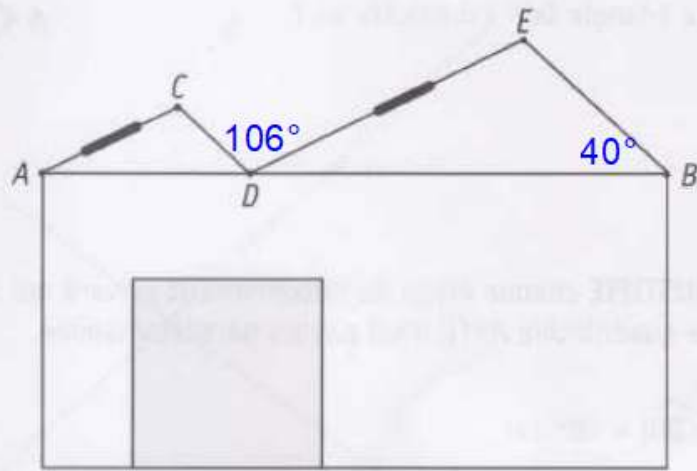
$$|\widehat{CDE}| = 106^\circ$$

$$|\widehat{EBD}| = 40^\circ$$

$A$ ,  $D$  et  $B$  sont alignés.

$AC \parallel DE$

$CD \parallel EB$



Pour installer des panneaux solaires, l'idéal est d'avoir une inclinaison du toit comprise entre  $30^\circ$  et  $35^\circ$ .

Remarque : l'inclinaison du toit est l'angle formé par le toit avec l'horizontale.

**DÉTERMINE** si on peut installer les panneaux solaires sur les toits  $[AC]$  et  $[DE]$  dans les conditions idéales.

 15a

**ÉCRIS** ton raisonnement et tous tes calculs.

 15b

$|\widehat{CDA}| = |\widehat{EBD}| = 40^\circ$  car ce sont des angles correspondants formés par deux droites parallèles ( $CD \parallel EB$ ) coupées par une sécante ( $AB$ ).

$$|\widehat{BDE}| = 180 - (106 + 40) = 34^\circ$$

$30 < 34 < 35$ , on peut donc installer les panneaux solaires sur les deux toits.

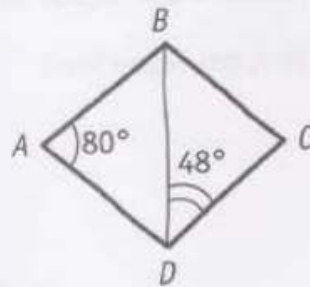
QUESTION

16

/3

Le triangle  $DAB$  est isocèle en  $A$

Le triangle  $DCB$  est isocèle en  $C$



**JUSTIFIE** chaque étape du raisonnement suivant qui te permet d'affirmer que le quadrilatère  $ABCD$  n'est pas un parallélogramme.

$|\widehat{CBD}| = 48^\circ$  car les amplitudes des angles à la base d'un triangle isocèle sont égales.

$|\widehat{DCB}| = 84^\circ$  car la somme des amplitudes des angles d'un triangle vaut  $180^\circ$

$ABCD$  n'est pas un parallélogramme car

les angles opposés n'ont pas la même amplitude.

QUESTION

17

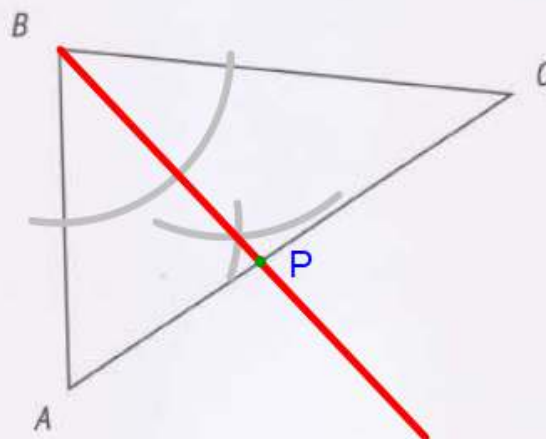
/2

**PLACE** le point  $P$  si :

- $P$  se trouve à égale distance des côtés  $[BA]$  et  $[BC]$  ;

et

- $P$  appartient au côté  $[AC]$  du triangle  $ABC$ .

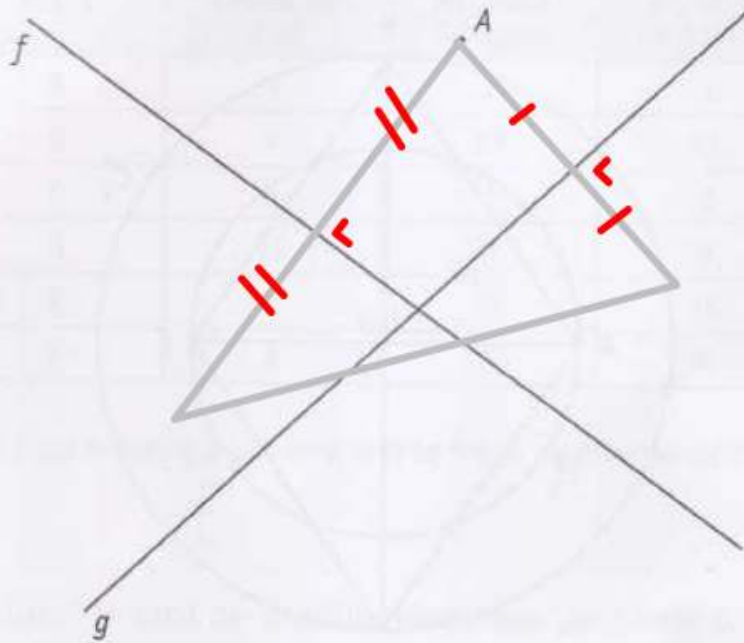


QUESTION

18

/3

**CONSTRUIS** un triangle dont le point  $A$  est un sommet et dont les droites  $f$  et  $g$  sont deux de ses médiatrices.

 18


(Il y a trois constructions possibles).

QUESTION

19

/2

**ÉCRIS** la caractéristique commune aux diagonales d'un rectangle et d'un losange.

 19

Les diagonales se coupent en leur milieu.

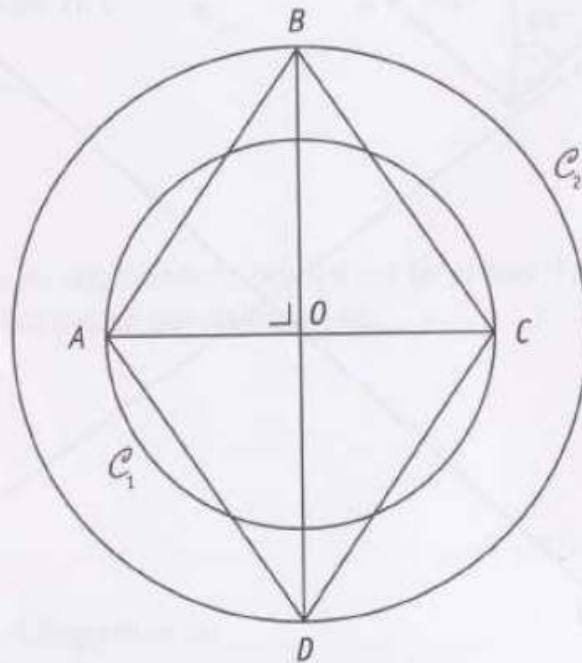
**ÉCRIS** la caractéristique supplémentaire des diagonales d'un carré par rapport à celles d'un rectangle.

Les diagonales sont perpendiculaires.



Soit  $\mathcal{C}_1$  un cercle de centre  $O$  et de rayon  $|OA|$

Soit  $\mathcal{C}_2$  un cercle de centre  $O$  et de rayon  $|OB|$



**CARACTÉRISE** avec précision la position relative des cercles  $\mathcal{C}_1$  et  $\mathcal{C}_2$ .

$\mathcal{C}_1$  et  $\mathcal{C}_2$  sont deux cercles **concentriques** (ou de même centre).

**JUSTIFIE** que le quadrilatère  $ABCD$  est un losange.

- 1)  $AC$  et  $BD$  sont perpendiculaires.
- 2)  $[AC]$  et  $[BD]$  se coupent en leur milieu.

Voici un extrait du tableau des médailles remportées lors d'une compétition interscolaire d'athlétisme.

École	Médaille d'or	Médaille d'argent	Médaille de bronze
A	3	2	1
B	7	17	12
C	5	1	2
D	19	7	9
E	7	14	15
F	6	6	8

**Calculs des totaux :**

- École B :  $7 + 17 + 12 = 36$
- École E :  $7 + 14 + 15 = 36$

**DÉTERMINE** les deux écoles qui ont remporté le même nombre de médailles.

 21a

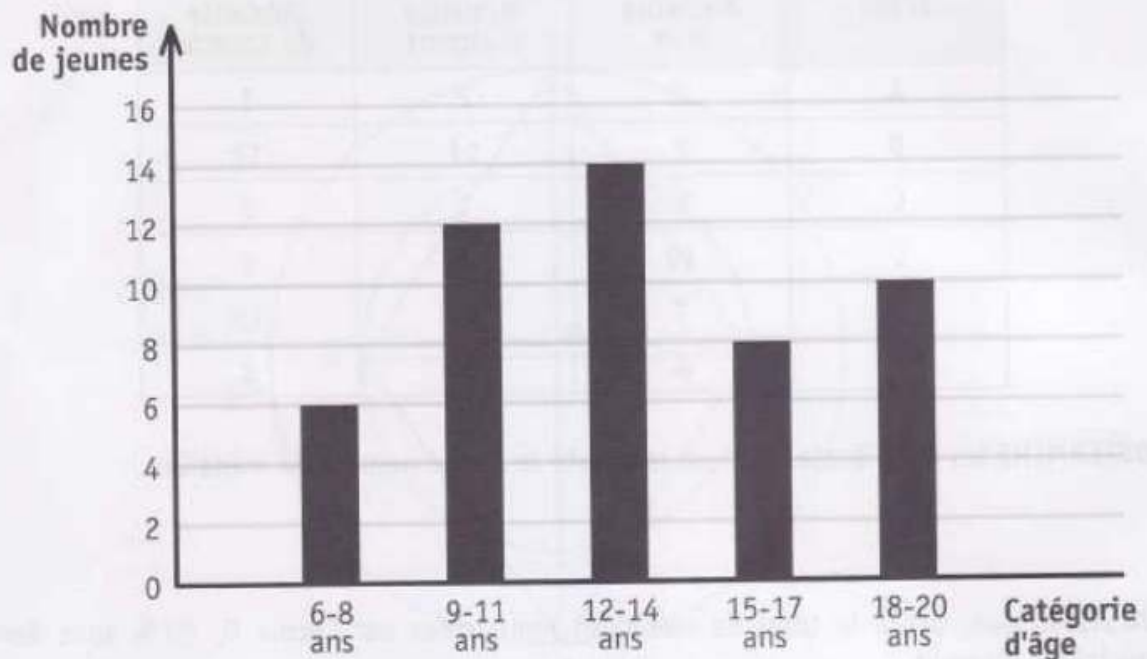
Les écoles B et E

**JUSTIFIE** que, parmi le total de médailles remportées par l'école D, 20 % sont des médailles d'argent.

 21b

$$7 : (19 + 7 + 9) = 7 : 35 = 0,20 \text{ soit } 20\%$$

Voici un graphique représentant le nombre de jeunes, classés par catégorie d'âge, qui ont participé à un cross.



22 jeunes ont moins de 13 ans.

**DÉTERMINE** le nombre de jeunes qui ont 13 ans ou plus.

$$\text{Total des jeunes} : 6 + 12 + 14 + 8 + 10 = 50$$

$$\text{Nombre de jeunes de 13 ans ou plus} : 50 - 22 = 28$$

Il y a 28 jeunes qui ont 13 ans ou plus.

QUESTION

23

/2

COMPLÈTE.

L'inverse de 4 est égal à  $\frac{1}{4}$ L'opposé de  $-\frac{3}{2}$  est égal à  $\frac{3}{2}$ 

QUESTION

24

/4

CALCULE la valeur numérique de  $3x^2 - 2x - 1$  pour  $x = -2$  et  $x = \frac{1}{3}$ .

ÉCRIS tous tes calculs.

Si  $x = -2$ 

$$\begin{aligned} & 3 \cdot (-2)^2 - 2 \cdot (-2) - 1 \\ & = 3 \cdot 4 + 4 - 1 \\ & = 12 + 4 - 1 \\ & = 15 \end{aligned}$$

Si  $x = \frac{1}{3}$ 

$$\begin{aligned} & 3 \cdot \left(\frac{1}{3}\right)^2 - 2 \cdot \frac{1}{3} - 1 \\ & = 3 \cdot \frac{1}{9} - \frac{2}{3} - 1 \\ & = \frac{1}{3} - \frac{2}{3} - \frac{3}{3} \\ & = -\frac{4}{3} \end{aligned}$$

QUESTION

25

/4

CALCULE en écrivant toutes les étapes.

ÉCRIS ta réponse sous la forme d'une fraction irréductible.

$$\left(\frac{1}{2} - \frac{1}{3}\right) \times 3 = \frac{3-2}{6} \cdot 3 = \frac{1}{6} \cdot 3 = \frac{1}{2}$$

$$\frac{1}{2} - \frac{1}{3} \times 3 = \frac{1}{2} - 1 = \frac{1}{2} - \frac{2}{2} = -\frac{1}{2}$$



DÉTERMINE, dans chaque cas, la valeur de  $a$  qui vérifie l'égalité.

 26

$$\frac{-5 + a}{13} = 0$$

$$-5 + a = 0$$

$$a = 5$$

$$\frac{a + 3}{4} = -1$$

$$a + 3 = -4$$

$$a = -7$$

Dans la cour de récréation, 20 élèves doivent se partager 302 billes.

Ali, un élève du groupe, propose : *Partagez-vous équitablement le maximum de billes, je prendrai celles qui restent !*

DÉTERMINE le nombre de billes qu'Ali recevra.

 27

ÉCRIS tous tes calculs.

$$302 : 20 = 15 \text{ reste } 2$$

$$19 \cdot 15 = 285 \text{ Ali recevra donc } 302 - 285 = 17 \text{ billes.}$$

**HACHURE** le tiers du quart de ce rectangle.



**DÉTERMINE** la fraction du rectangle qui n'est pas hachurée.

$\frac{11}{12}$

**COMPLÈTE.**

Le tiers du quart de ce rectangle est aussi égal à la moitié du sixième de ce rectangle.

Une famille commande deux pizzas de taille identique : une margherita et une aux champignons.

Le père mange  $\frac{2}{3}$  de la margherita et la fille en mange  $\frac{1}{6}$ .

La mère mange  $\frac{1}{2}$  de celle aux champignons et le fils en mange  $\frac{3}{8}$ .

Ils regroupent les morceaux restants des deux pizzas pour les mettre au frigo.

**DÉTERMINE** si, au total, il reste plus d'une demi-pizza.

**ÉCRIS** tous tes calculs.

$$1 - \left(\frac{2}{3} + \frac{1}{6}\right) = 1 - \frac{5}{6} = \frac{1}{6}$$

$$1 - \left(\frac{1}{2} + \frac{3}{8}\right) = 1 - \frac{7}{8} = \frac{1}{8}$$

$$\frac{1}{6} + \frac{1}{8} = \frac{4+3}{24} = \frac{7}{24}$$

Il reste moins d'une demi-pizza.

$$\frac{-7}{8} = \frac{x}{-40}$$

**JUSTIFIE** que  $x = 35$ .

$$-7 \cdot (-40) = 8 \times 35$$

 30

Tableau A

x	y
1	6
2	7
3	8

Tableau B

x	y
3	1
4	2
6	4

Tableau C

x	y
1	3
4	12
5	15

**COCHE** la case du tableau qui représente une situation de proportionnalité directe entre la grandeur  $x$  et la grandeur  $y$ .

 31

**DÉTERMINE** le coefficient de cette proportionnalité.

Coefficient de proportionnalité = 3

Sur le blog d'Alice, 60 % des visiteurs ont laissé un commentaire et 36 visiteurs n'ont rien écrit.

**CALCULE** le nombre total de visiteurs qu'Alice a reçus sur son blog.

**ÉCRIS** ton raisonnement et tous tes calculs.

$$\begin{array}{l} :2 \left( \begin{array}{l} 36 \text{ visiteurs correspondent à } 100 - 60 = 40\% \\ 18 \text{ visiteurs correspondent à } 20\% \end{array} \right) :2 \\ .5 \left( \begin{array}{l} 90 \text{ visiteurs correspondent à } 100\% \end{array} \right) .5 \end{array}$$



On a jeté 40 fois un dé.

Pour chaque lancer, on a noté les valeurs obtenues (1 à 6).

6	6	3	2	6	4	2	6	1	3
5	2	5	3	1	5	6	6	5	1
5	4	6	1	3	6	3	3	6	2
4	4	4	4	5	6	2	5	3	6

Dans le tableau suivant, on a noté le nombre de fois que chaque valeur est apparue.

Nombre	1	2	3	4	5	6
Effectif	4	5	7	6	7	11

Après comptage, certaines valeurs de lancer ont été effacées.

**ÉCRIS** les valeurs effacées dans les six cases du premier tableau (l'ordre n'a pas d'importance).

 33

**DÉTERMINE** le mode de cette série statistique.

Mode : 6

**CALCULE** la fréquence relative au nombre 2.

$$\frac{5}{40} = \frac{1}{8}$$

Alexandra souhaite faire du sport.

Voici les deux tarifs proposés par une salle de sport.

- Tarif 1 : 35 € d'abonnement et 7 € par cours.
- Tarif 2 : 15 € par cours sans abonnement.

**DÉTERMINE** à partir de combien de cours (nombre entier) le tarif 1 est plus avantageux que le tarif 2.

**ÉCRIS** ton raisonnement et tous tes calculs.

$$35 + 7x = 15x$$

$$35 = 8x$$

$$\frac{35}{8} = x$$

$$35 : 8 = 4,...$$

Le tarif 1 est donc plus avantageux à partir de 5 jours.

## QUESTION

35

/3


ÉCRIS l'abscisse du point  $P$ .

 35

Abscisse de  $P$  : -3

SITUE le point  $H$  d'abscisse  $\frac{-5}{2}$ .

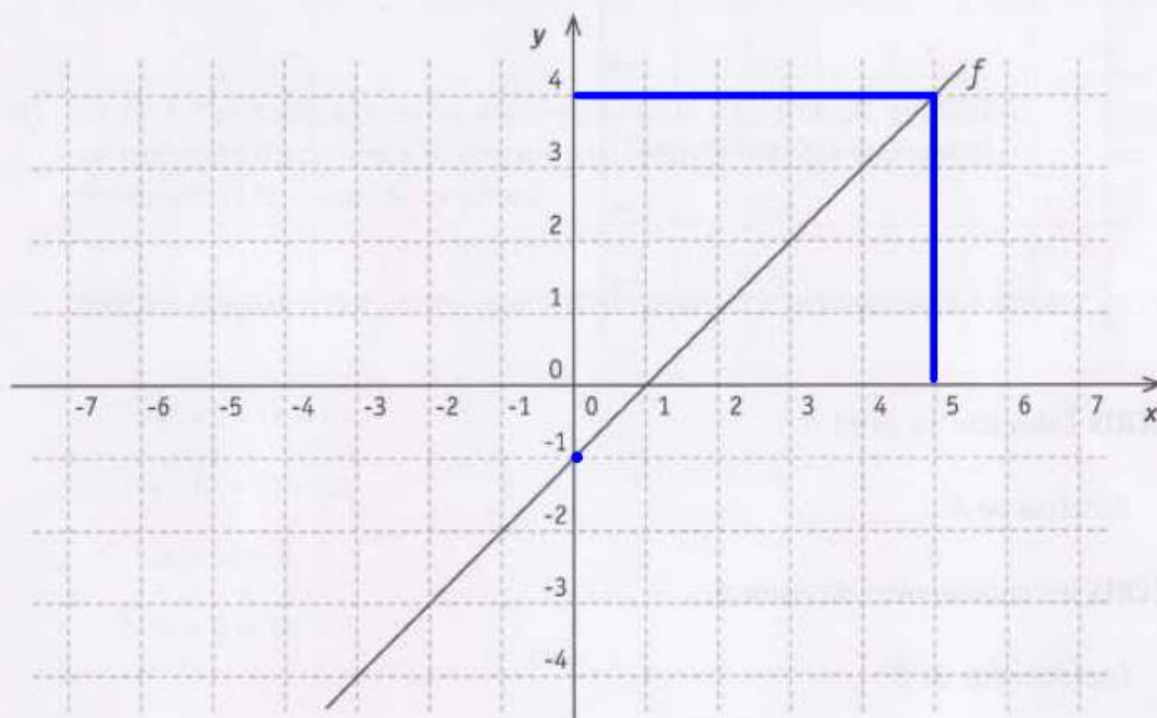
SITUE le point  $M$  d'abscisse 2,25.



## QUESTION

36

/2



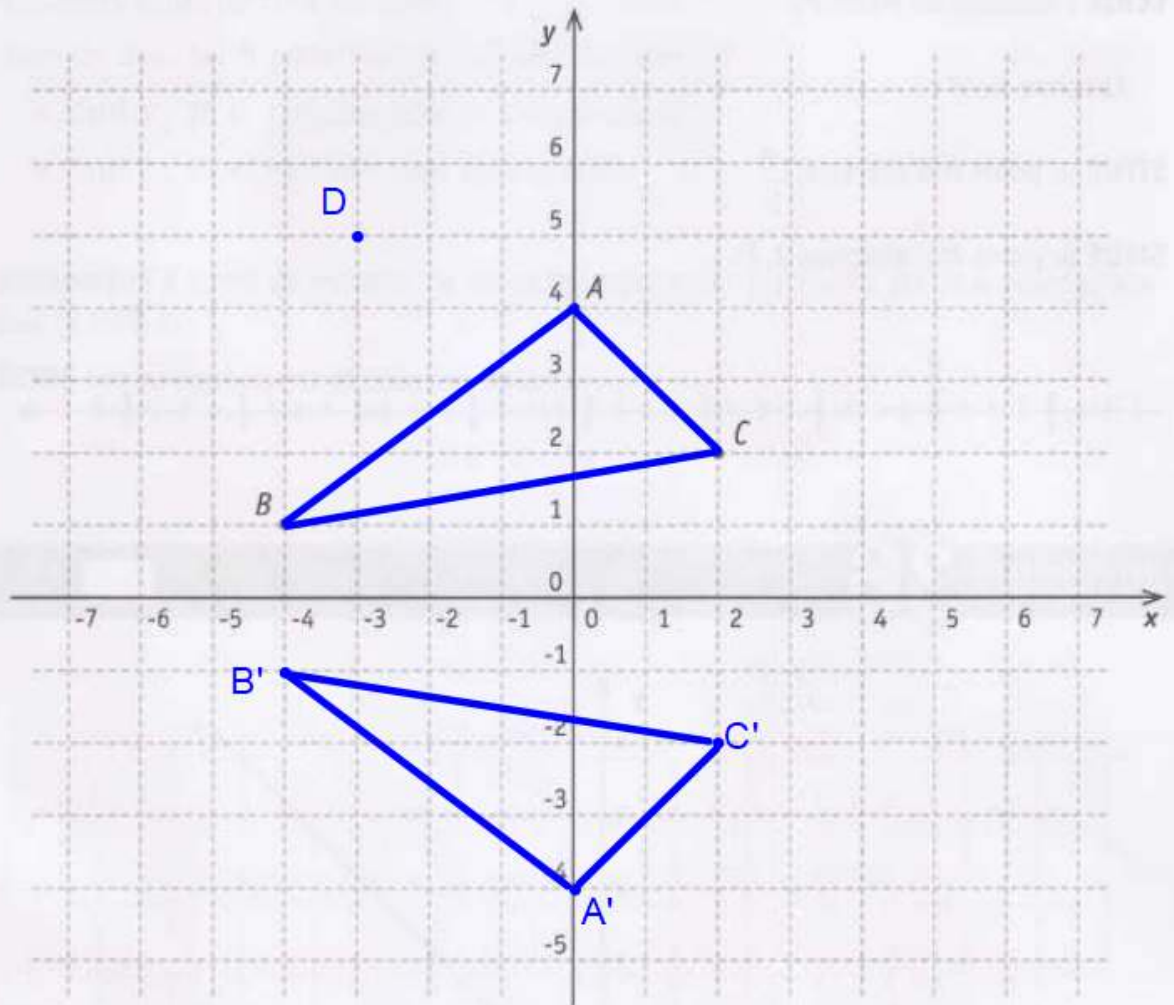
ÉCRIS les coordonnées du point d'intersection de la droite  $f$  et l'axe  $y$ .

 36

Coordonnées du point : (0;-1)

ÉCRIS l'ordonnée du point de la droite  $f$  dont l'abscisse vaut 5.

Ordonnée du point : 4



ÉCRIS l'abscisse du point  $A$ .

Abscisse de  $A$  : 0

ÉCRIS les coordonnées du point  $B$ .

Coordonnées de  $B$  : (-4;1)

PLACE le point  $D$  de coordonnées  $(-3 ; 5)$ .

CONSTRUIS, dans le repère ci-dessus, le triangle  $A'B'C'$  qui respecte les deux conditions suivantes :

- les abscisses de  $A'$ ,  $B'$  et  $C'$  sont respectivement égales à celles de  $A$ ,  $B$  et  $C$ .
- les ordonnées de  $A'$ ,  $B'$  et  $C'$  sont respectivement opposées à celles de  $A$ ,  $B$  et  $C$ .

- a) Quel est le nombre dont le tiers diminué de 5 vaut 1 ?

**COCHE** l'équation qui correspond à la situation si  $x$  représente ce nombre.

38

$\frac{x-5}{3} = 1$

$\frac{x}{3} - 5 = 1$

$3x - 5 = 1$

$x - \frac{5}{3} = 1$

- b) Le côté d'un carré a la même mesure que celui d'un triangle équilatéral.  
Le périmètre du carré a 9 m de plus que celui du triangle équilatéral.  
Quelle est la longueur de ce côté ?

**COCHE** l'équation qui correspond à la situation si  $x$  représente la longueur de ce côté.

$4x = 3 \cdot (x + 9)$

$4 \cdot (x + 9) = 3x$

$4x = 3x + 9$

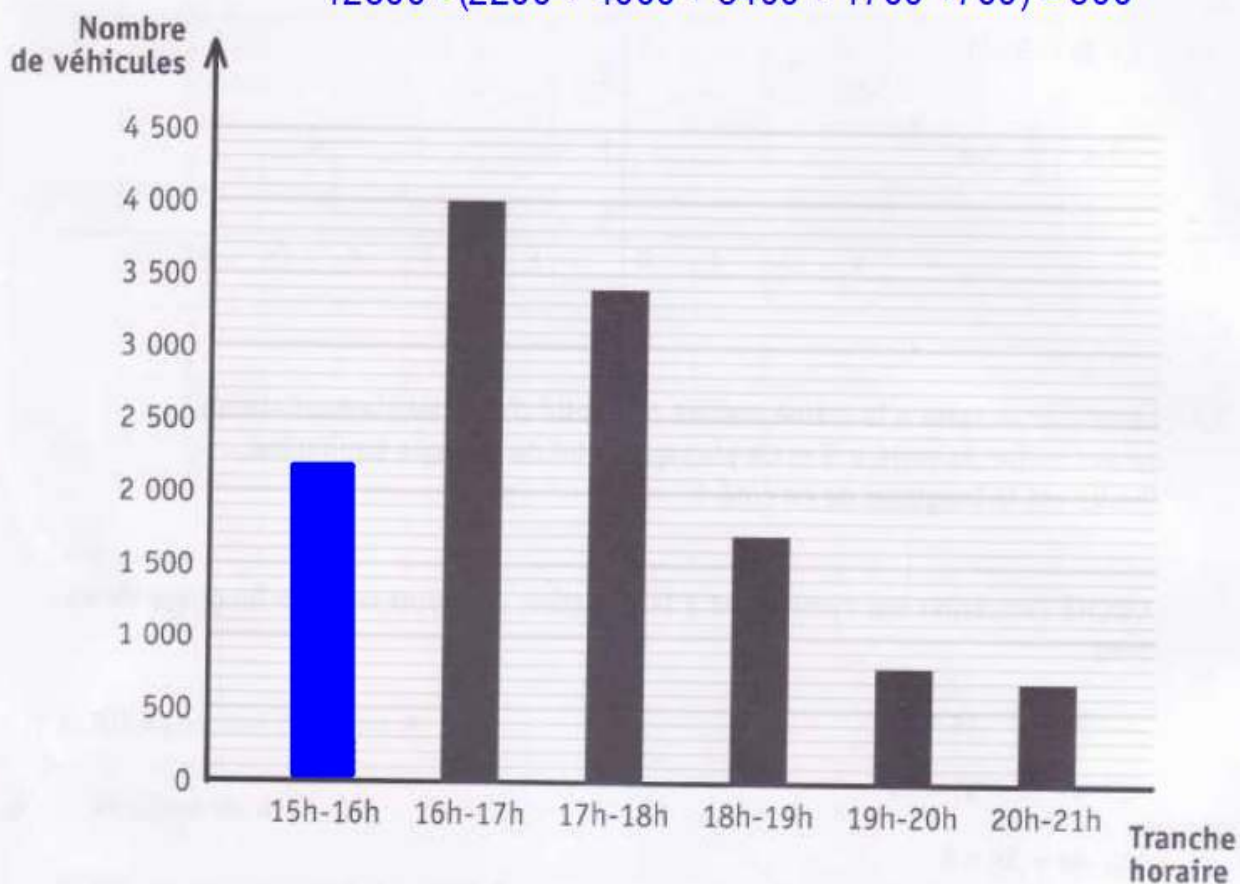
$4x + 9 = 3x$



Voici la répartition par tranche horaire des 12 800 véhicules quittant une ville entre 15 heures et 21 heures sous forme de tableau et de graphique.

Tranche horaire	15h-16h*	16h-17h	17h-18h	18h-19h	19h-20h	20h-21h
Nombre de véhicules	2 200	4 000	3 400	1 700	800	700

$$12800 - (2200 + 4000 + 3400 + 1700 + 700) = 800$$



**COMPLÈTE** le tableau.

**COMPLÈTE** le graphique.

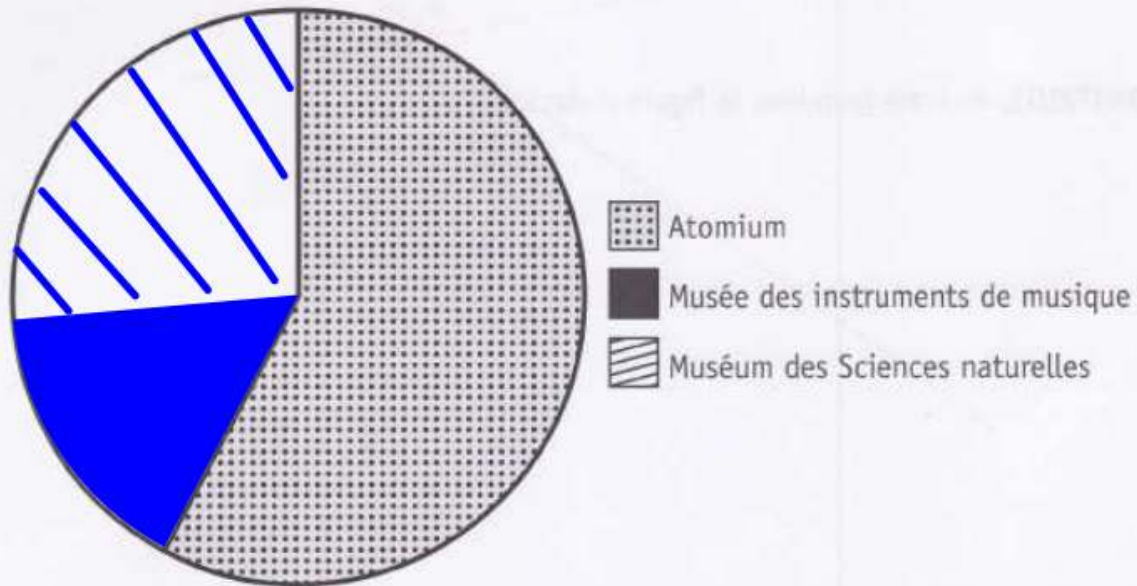
**JUSTIFIE**, par calcul, que les trois quarts des véhicules quittent la ville entre 15h et 18h.

$$(2200 + 4000 + 3400) : 12800 = 9600 : 12800 = 0,75$$

\* 15h - 16h : l'intervalle entre 15h compris et 16h non compris. Il en est de même pour les autres intervalles.

Le 1<sup>er</sup> juin, le nombre de visiteurs était :

- de 1 248 pour l'Atomium ;
- de 228 pour le Musée des instruments de musique ;
- de 684 pour le Muséum des Sciences naturelles.



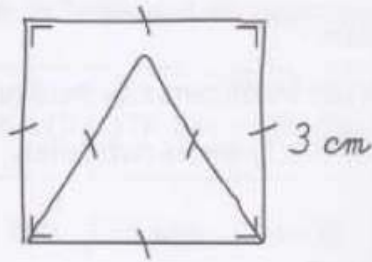
**COMPLÈTE** le diagramme circulaire qui représente cette situation.

 40

**ÉCRIS** tous tes calculs.

$$228 : (1248 + 228 + 684) = 228 : 2160 = 0,1055\dots$$

$$0,1055\dots \cdot 360 = 38^\circ$$



CONSTRUIS, en vraie grandeur, la figure ci-dessus.



COMPLÈTE par le vocabulaire adéquat.



- Un quadrilatère qui n'a pas d'axe de symétrie et qui a un centre de symétrie

est un parallélogramme.

- Un triangle qui a un seul axe de symétrie est un triangle isocèle.

COMPLÈTE par un nombre.

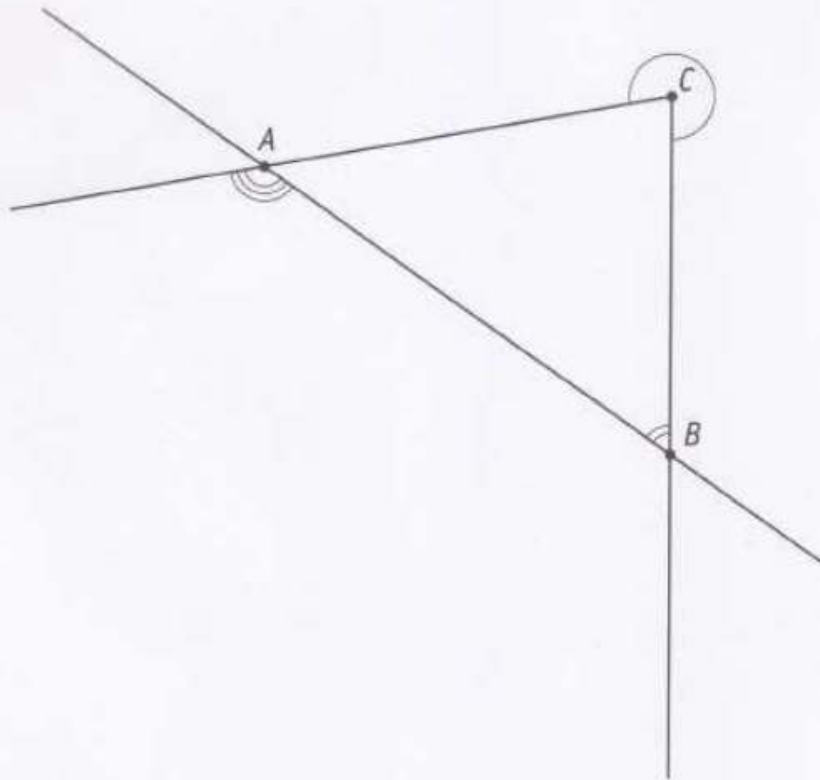
- Un hexagone régulier possède 6 axes de symétrie.

QUESTION **43**

/3

MESURE l'amplitude des angles  $\hat{A}$ ,  $\hat{B}$  et  $\hat{C}$  marqués.

43



Amplitude de l'angle  $\hat{A} = 135^\circ$

Amplitude de l'angle  $\hat{B} = 55^\circ$

Amplitude de l'angle  $\hat{C} = 280^\circ$